

Всего 308 - 53,5%


Теоретический тур школьного этапа географии 8 класс

Задание 1

Ниже перечислены утверждения об одном материке. Определите, о каком материке идёт речь и укажите два лишних утверждения. К каким материкам относятся лишние утверждения?

1. Материк имеет самую ровную из всех материков береговую линию.
2. Большую часть занимают плато и плоскогорья.
3. На материке находится самое глубокое озеро планеты.
4. Часть рек летом пересыхают и можно наблюдать сухие русла.
5. Значительную часть материка занимают пустыни.
6. Обитают самые крупные млекопитающие суши.
7. На материке протекает самая полноводная река планеты.

Африка



Задание 3

Ниже представлены шесть мировых достопримечательностей мира. Определите эти достопримечательности, внесите номер фотографии в таблицу ниже, заполните графу «Местоположение», указав страну, материк, где находится объект.

№ фото	Достопримечательности	Местоположение
6	Оперный театр	Страна: <i>Швейцария</i> Материк: <i>Европа</i>
4	Пирамиды	Страна: <i>Египет</i> Материк: <i>Африка</i>
3	Великая стена	Страна: <i>Китай</i> Материк: <i>Азия</i>
2	Статуя Свободы	Страна: <i>США</i> Материк: <i>Северная Америка</i>
5	Статуя Христа Искупителя	Страна: <i>Бразилия</i> Материк: <i>Южная Америка</i>

Задание 4

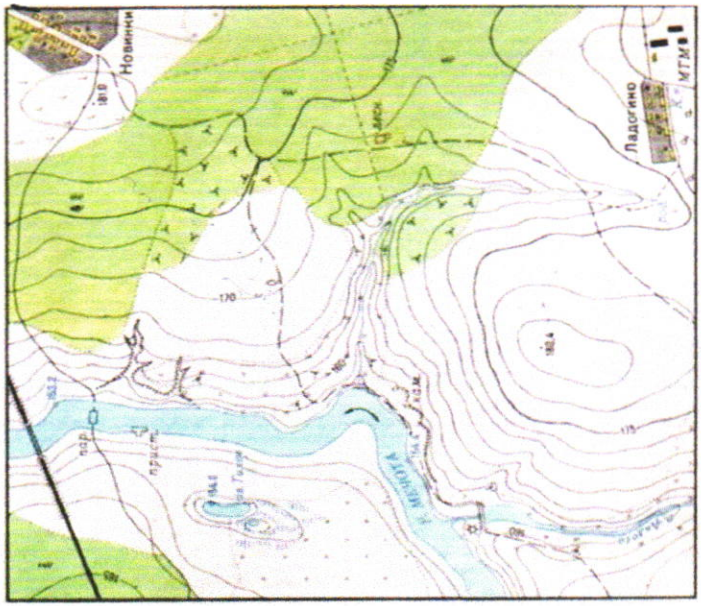
Прочитайте фрагмент текста, ответьте на вопросы.

«Весна. Звенят большие и малые ручьи. Со стоном взламываются речушки в горах. Дрожат покрытые тонкой пленкой заморозков рябоватые озера, лужи, купели стоячей, остро пахнувшей мхом. Вода всоуд. Ступишь ногой и след заполняется водой. Тронешь мшистую кочку – и кочка сочится. Станешь робко ногой на ледок – и из-под ледка брызнет вода, звонкая,


Алексей Степанович В.А.

Задание 2

1. Используя топографическую карту, определите, можно ли увидеть из поселка Ладогино плотину, сооруженную на реке Андоге, свой отсвет обоснуйте.
2. Определите расстояние от пристани до парома.
3. Определите по фрагменту топографической карты относительную высоту между самой высокой точкой и урезом воды реки Мечоты.

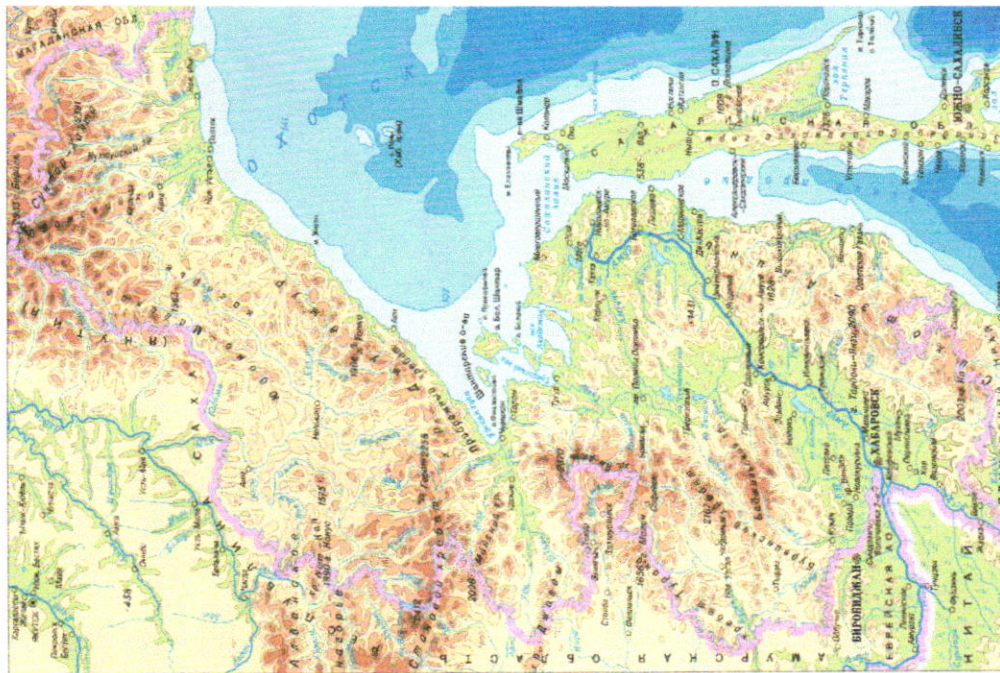


*Снег упирается в холм
как стена высотой 4
2550 - 550 м
309 м*



Александр

Карта Хабаровского края



весенняя. Всё сейчас сплошное болото. Оно оживленно всхлипывает под сапогами, мягкое, податливое, покрытое желтой прошлогодней травой. Весна входит робко и неуверенно. Останавливается. Оглядывается. Испуганно замирает под нежданным нордом, ежится под метельным остом и все-таки идет, идет... Уже сполз в ложины снег, но еще не стаял. Уже открылись забереди, но лед еще прочен. Уже появился гусь, но еще нет комара...».

/ Б.Л. Горбатова/

1. О какой природной зоне говорится в тексте? *тайга или мшанная тайга*
2. На каких материках она встречается? *Евразия, Америка (Северная)*
3. В каких странах мира можно увидеть такой ландшафт? *Россия, Великие озера*
4. Выпишите из текста 3 признака данной природной зоны. *5-5 км, болото, комары*
5. Почему поверхность представляет собой сплошное болото? *Сильное болото*
6. Какие виды хозяйственной деятельности человека может осуществлять на территории этой природной зоны? *Соборничество, сельхоз*

Задание 5

Одна из вершин горного хребта Сунгар -Хаята, является высочайшей точкой Хабаровского края. До 1955 года на картах обозначалась как гора Берия.



- Выполните задания, используя карту в приложении.
1. Определите, как называется эта вершина? *Самы верши*
 2. По карте определите ее высоту. *2555 м*
 3. В каком административном районе находится данная вершина. *Кочневский север Хабаровского края*
 4. Почему ее переименовали? *Верши*

Как Карити

126

Всероссийская олимпиада школьников по географии
школьный этап 2019-2020
8 класс

Тестовый тур

1 часть

1. Какой материк описан в стихотворении:

Там протекают реки без воды

Они в пустыне пропадают где-то.

Дерева сами лезут из коры,

Спасает юг от северной жары.

А) Африка

Б) Австралия

В) Евразия

Г) Северная Америка

0

2. Месторождения каких полезных ископаемых есть и на Западно-Сибирской равнине, и на побережье Мексиканского залива?

А) нефти

Б) алмазов и золота

В) каменного угля

Г) торфа

1

3. Что нужно сделать для того, чтобы отпраздновать Новый год второй раз за сутки?

А) пересечь нулевой меридиан с запада на восток

Б) пересечь нулевой меридиан с востока на запад

В) пересечь экватор с севера на юг по линии перемены дат

Г) пересечь экватор с юга на север по линии перемены дат

1

4. Какой климатический пояс отсутствует на территории Северной Америки?

А) умеренный

Б) арктические

В) тропический

Г) экваториальный.

1

5. Выберите правильный ответ

Характерными чертами рельефа Африки являются:

1) преобладание высоких равнин и наличие крупнейшей рифтовой зоны суши

2) здесь расположены самые высокие горы планеты и самая глубокая впадина суши

А) верно только 1 Б) верно только 2 В) оба ответа верны

1

6. Это пресмыкающееся встречается по руслу рек Амур и Усури и в устьях их притоков, проникая к северу до Комсомольского района. Летом заселяет неглубокие озера. На зимовку уходит с середины сентября. Зимует в водоемах, закапываясь в донный ил, песок.

А) Амурская долгохвостка

Б) Дальневосточная черепаха

В) Дальневосточная жаба

0

7. Какими цифрами на карте обозначены:

А) река Иртыш 11 - 9, 2

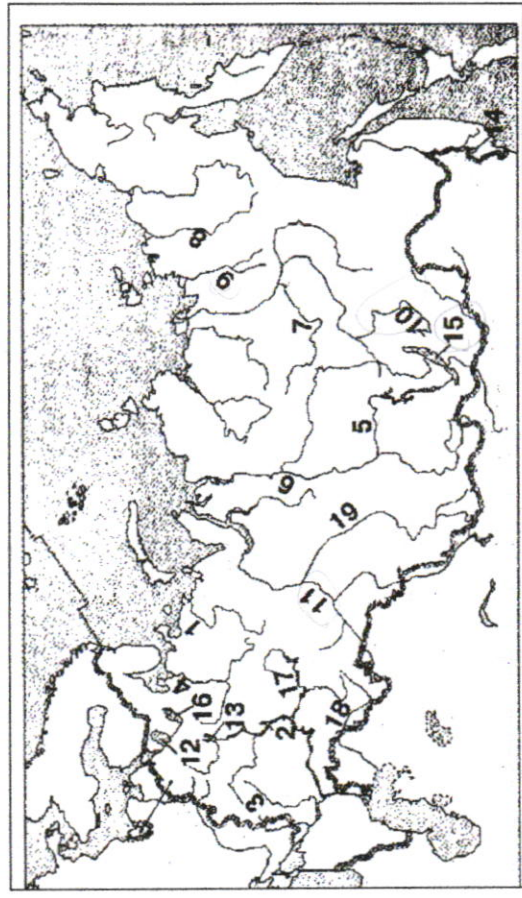
Б) озеро Ханка 14 - 9, 2, 2

В) река Витим 10 - 9, 2, 2






Г) река Яна 9 - 9, 2

Д) озеро Байкал 15

16

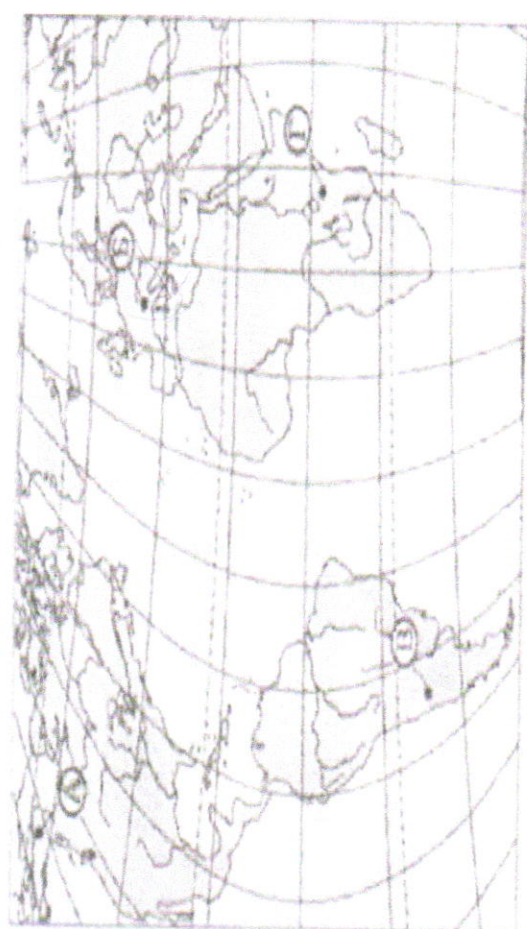


8. Найди соответствие: название прибора - рисунок, на котором он изображен.

<p>1. термометр 2. барометр 3. психрометр 4. осадкомер 5. флюгер</p>		<p>2. </p>
<p>3. </p>	<p>4. </p>	<p>5. </p>

3-A 1-D 2-T 4-B 5-B
 0,2 0,2 0,2 0,2 0,2

9. Какой буквой на карте обозначен вулкан Килиманджаро?



ответ: А

16

10. Исключи из списка слова, не подходящие по признаку:

- А) С-Петербург, Н.Новгород, Токто, Омск. -0,2
- Б) Река, подушефов, море, озеро. -0,2 -0,2
- В) Дуб, ель, секвойя, лиственница, лес. -0,2
- Г) Сахалин, Гренландия, Сицилия, Нов. Гвинея, Индонезия. -0,2
- Д) Сахара, Калахари, Чад, Гималаи, Каракумы. -0,2

16

11. Дополните следующие формулировки:

- А) Наибольшие площади зона саванн и редколесий занимает в Австралии.
- Б) Наиболее безжизненна зона пустынь. пустынь. тропических.
- В) Леса полностью отсутствуют на материке Африка.
- Г) Кампос - это природная зона, которая находится на плоскогорье.

0,56

12. Установите соответствие:

- Высшая точка Материк
- 1) гора Косцюшко А) Африка
 - 2) гора Джомолунгма Б) Южная Америка
 - 3) гора Аконкагуа В) Северная Америка
 - 4) гора Мак - Кинли Г) Австралия
 - 5) вулкан Килиманджаро Д) Евразия

1,56

13. Определите физико-географические закономерности в предложенной цепочке, раскрывающей причину образования ветра. Представьте это цепочкой букв.

- А) Солнце
- Б) Ветер
- В) Температура воздуха
- Г) Атмосферное давление

16

АВГВ

14. Это прессыкающееся встречается по руслам рек Амур и Усури и в устьях их притоков, проникая к северу до Комсомольского района. Летом заселяет неглубокие озера. На зимовку уходит с середины сентября. Зимует в водоемах, закапываясь в донный ил, песок.

0

- А) Амурская долгохвостка
- Б) Дальневосточная черепаха
- В) Дальневосточная жаба

15. Расположите перечисленные периоды геологической истории Земли в хронологическом порядке, начиная с самого раннего:

- А) Четвертичный
- Б) Меловой
- В) Кембрийский
- Г) Пермский

16

Б, Г, В, А