

Шифр

9	-	0	0	0	1													
---	---	---	---	---	---	--	--	--	--	--	--	--	--	--	--	--	--	--

**Всероссийская олимпиада школьников по географии
школьный этап 2024-2025 учебный год**

9 класс

ЛИСТ ОТВЕТОВ

Участник олимпиады	
Фамилия	Сысучова
Имя	Злата
Отчество	Александровна

№ задания	Баллы				Тесты
	1	2	3	4	
Количество баллов	5	3,5+3,5	3,5	0	20
Подпись члена жюри	<i>Жур</i>	<i>Жур</i>	<i>Жур</i>	<i>Жур</i>	<i>Жур</i>
Сумма баллов и подпись председателя	35,56 - 55% <i>Журов / Журов О.А.1</i>				

Шифр

9 - 0 0 0 1

**Всероссийская олимпиада школьников по географии
школьный этап 2024-2025 учебный год**

9 класс

**Лист ответов
Тестовый тур**

№	Ответ	
1	Б	0б
2	В	0б
3	В	1б
4	В	1б
5	Г	1б
6	А	0б
7	А	1б
8	А	1б
9	Г	1б
10	Б	1б
11	Г	1б
12	А	1б
13	Г	0б
14	5Б; 2В; 1Д; 3Г; 4А	2,5б
15	АД	1б
16	ВДАГБ	0б
17	ДАВБГ	2,5б

Шифр

9	-	0	0	0	1														
18	5A I ; 2Д V ; 1B II ; 4Б IV ; 3Г III																	2,5б	
19	1А ; 3Г ; 5Б ; 2Д ; 4В																	2,5б	
20																		0б	

20б

Шифр

9 - 0 0 0 1

Теоретический тур

Задание № 1. «Космический снимок»

№	Вопрос	Ответ
1	Как называется этот искусственный гидрографический объект?	Суэцкий канал 15
2	Какие части света он разъединяет?	Африка Европа 15
3	Какие водные объекты он соединяет?	Средиземное, Красное море 15
4	Какие города расположены на берегу объекта?	Порт-Саид и Каир 06
5	На территории какого государства расположен этот гидрографический объект?	Египет 15
6	Столица государства, на территории которого расположен этот гидрографический объект?	Каир 15
7	Почему этот объект без шлюзов?	06

56

Шифр


9	-	0	0	0	1													
---	---	---	---	---	---	--	--	--	--	--	--	--	--	--	--	--	--	--

Задание № 2. «Картографическое»

Контур озера	Название	Материк	Происхождение	Сведения
 А	Каспий - ское 0,5б	Евразия	Океаническое 0б	Уровень озера находится ниже уровня Мирового океана. Оно расположено преимущественно в зонах полупустынь и пустынь внутренней области материка
 Б	Виктория 0,5б	Африка 0,5б	Тектоническое 0,5б	На территории озера находятся знаменитые заповедники и национальные парки. Наиболее интересен национальный парк острова Рубондо.
 В	 0	 0	Остаточное	В течение своей истории оно неоднократно претерпевало трансгрессии и регрессии — увеличения и последующие усыхания
 Г	Ньяса 0,5б	Африка	Тектоническое 0,5б	В Республике Малави, которой принадлежит большая часть побережья, оно официально называется Малави, по названию страны и этнической группы. В Танзании и Мозамбике используется географическое название.
	 0	 0	 0	Пятое по величине озеро материка. Оно

3,5б

Шифр

9	-	0	0	0	1															
Д	Онтарио	Северная Америка 0,5																		связано с оз. Эри рекой, на которой находится знаменитый водопад
Е										Ледниково-тектоническое									С сентября 1941г. по март 1943г. действовала «Дорога жизни». Она связывала находящийся в блокаде г. Ленинград с остальной территорией страны.	

№	Вопрос	Ответ	
1.	Берега каких пяти стран омывает озеро А?	Казахстан, Туркмения, Иран, Азербайджан, Россия	2,5б
2.	В честь кого названо озеро Б?	Королева Виктория	0,5б
3.	Какая деятельность человека ускорило усыхание озера В?		0
4.	Какое озеро мира называют сестрой озера Г?	Темаликья	0
5.	Назовите водопад на реке, которая связывает оз. Д и оз. Эри?	Ниагарский	0,5
6.	Как назывался водный путь, проходящий по озеру Е из Скандинавии через Восточную Европу в Византию с IX века?		0

3,5б

Шифр



9	-	0	0	0	1												
---	---	---	---	---	---	--	--	--	--	--	--	--	--	--	--	--	--

Задание № 3. «Топографическое»

Условный знак на топографической карте	Название условного знака	Номер объекта на Рисунке (если обозначен)	Расшифровка текстовых подписей условных знаков
	Лес	1 0,5	
		0	
	залежи	0	
	мельница	0	
		0	
	река 0,5	4 0,5	
	луг 0,5	3 0,5	
	церковь	2 0	

3,56

Шифр

9	-	0	0	0	1														
		<p>мост</p> <p>0,5</p>		<p>5</p> <p>0,5</p>															
		<p>Хвойный лес</p>		<p>0</p>															

Задание № 4. «Историческая география»

Вопрос	Ответ
1. Назовите имя натуралиста, о котором говорится в Указе президента РФ?	
2. В качестве кого совершил первые свои экспедиции по югу Дальнего Востока?	
3. Перед вам памятник на сопке Увальной. В каком городе он возведен?	
4. Какие книги написал путешественник, в честь которого разработан фирменный знак, и с какой целью?	
5. Запишите фамилию норвежского путешественника	

05