

Шифр

9	-	0	0	0	4												
---	---	---	---	---	---	--	--	--	--	--	--	--	--	--	--	--	--

**Всероссийская олимпиада школьников по географии
школьный этап 2024-2025 учебный год**

9 класс

ЛИСТ ОТВЕТОВ

Участник олимпиады	
Фамилия	Белова
Имя	Кристина
Отчество	Ивановна

№ задания	Баллы				Тесты
	1	2	3	4	
Количество баллов	5	4 + 3,5	3,0	0	20
Подпись члена жюри					
Сумма баллов и подпись председателя	<p align="center">35,5 - 55%</p> <p align="center">Юрков - / Тиметей О.А. - 1</p>				

Шифр

9	-	0	0	0	2												
---	---	---	---	---	---	--	--	--	--	--	--	--	--	--	--	--	--

**Всероссийская олимпиада школьников по географии
школьный этап 2024-2025 учебный год**

9 класс

**Лист ответов
Тестовый тур**

№	Ответ	
1	Б	0б
2	В	0б
3	В	1б
4	В	1б
5	Г	1б
6	А	0б
7	А	1б
8	Б	0б
9	Г	1б
10	Б	1б
11	Г	1б
12	А	1б
13	Б	1б
14	5Б; 2В; 1А; 3Г; 4А	2,5б
15	АА	1б
16	ВА АГБ	0
17	А, А, В, Б, Г	2,5б

Шифр

9	-	0	0	0	2														
18	5AII; 2AV; 1BII; 4BIV; 3GIII																	2,55	
19	1A; 3Г; 5Б; 2А; 4В																	2,55	
20																		0	

20,05

Шифр

9 - 0 0 0 2

Теоретический тур

Задание № 1. «Космический снимок»


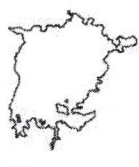



№	Вопрос	Ответ
1	Как называется этот искусственный гидрографический объект?	сузкий канал 15
2	Какие части света он разъединяет?	Африка и Евразия 15
3	Какие водные объекты он соединяет?	средиземное и Красное моря 15
4	Какие города расположены на берегу объекта?	Каир и Порт-Саид 05
5	На территории какого государства расположен этот гидрографический объект?	Египет 15
6	Столица государства, на территории которого расположен этот гидрографический объект?	Каир 15
7	Почему этот объект без шлюзов?	05

55

Шифр

9	-	0	0	0	2														
---	---	---	---	---	---	--	--	--	--	--	--	--	--	--	--	--	--	--	--

Задание № 2. «Картографическое»

Контур озера	Название	Материк	Происхождение	Сведения
 А	Каспийское	Евразия	Океаническое	Уровень озера находится ниже уровня Мирового океана. Оно расположено преимущественно в зонах полупустынь и пустынь внутренней области материка
 Б	Виктория	Африка	тектоническое	На территории озера находятся знаменитые заповедники и национальные парки. Наиболее интересен национальный парк острова Рубондо.
 В			Остаточное	В течение своей истории оно неоднократно претерпевало трансгрессии и регрессии — увеличения и последующие усыхания
 Г	Ньяса	Африка	тектоническое	В Республике Малави, которой принадлежит большая часть побережья, оно официально называется Малави, по названию страны и этнической группы. В Танзании и Мозамбике используется географическое название.
 Д				Пятое по величине озеро материка. Оно

Шифр

9	-	0	0	0	2														
---	---	---	---	---	---	--	--	--	--	--	--	--	--	--	--	--	--	--	--

Д	Онтарио	северная Америка 0,5	тектоническое 0,5	связано с оз. Эри рекой, на которой находится знаменитый водопад
Е			Ледниково-тектоническое	С сентября 1941г. по март 1943г. действовала «Дорога жизни». Она связывала находящийся в блокаде г. Ленинград с остальной территорией страны.

4,5

№	Вопрос	Ответ
1.	Берега каких пяти стран омывает озеро А?	Казанстан, Туркмения, Иран, Азербайджан, Россия 2,5 б
2.	В честь кого названо озеро Б?	Кореньевы Виктории 0,5 б
3.	Какая деятельность человека ускорило усыхание озера В?	
4.	Какое озеро мира называют сестрой озера Г?	Танганьика 0 б
5.	Назовите водопад на реке, которая связывает оз. Д и оз. Эри?	Ниагарский 0,5 б
6.	Как назывался водный путь, проходящий по озеру Е из Скандинавии через Восточную Европу в Византию с IX века?	0

3,5 б

Шифр

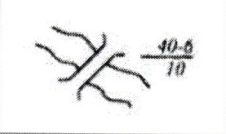

9	-	0	0	0	2													
---	---	---	---	---	---	--	--	--	--	--	--	--	--	--	--	--	--	--

Задание № 3. «Топографическое»

Условный знак на топографической карте	Название условного знака	Номер объекта на Рисунке (если обозначен)	Расшифровка текстовых подписей условных знаков
	деревья	1 0	
		0	
		0	
	мельница	0	
		0	
	река 0,5	4 0,5	
	мост 0,5	3 0,5	
	церковь 0	2 0	

Шифр

9	-	0	0	0	2														
---	---	---	---	---	---	--	--	--	--	--	--	--	--	--	--	--	--	--	--

	мост 0,5	5 0,5	
	хвойный лес	0	

3,06

Задание № 4. «Историческая география»

Вопрос	Ответ
1. Назовите имя натуралиста, о котором говорится в Указе президента РФ?	
2. В качестве кого совершил первые свои экспедиции по югу Дальнего Востока?	
3. Перед вам памятник на сопке Увальной. В каком городе он возведен?	
4. Какие книги написал путешественник, в честь которого разработан фирменный знак, и с какой целью?	
5. Запишите фамилию норвежского путешественника	

08